

ÉCOLES NORMALES SUPÉRIEURES
ÉCOLE NATIONALE DES PONTS ET CHAUSSÉES

CONCOURS D'ADMISSION SESSION 2016

FILIÈRE BCPST

COMPOSITION DE PHYSIQUE

Épreuve commune aux ENS de Cachan, Lyon, Paris et de l'ENPC

Durée : 4 heures

L'usage de calculatrices électroniques de poche, à alimentation autonome, non imprimante et sans document d'accompagnement, est autorisé pour cette épreuve.

* * *

Méthodes physiques du traitement des eaux

- 10 Les techniques physiques, chimiques et biologiques d'épuration des eaux permettent de traiter, soit des eaux usées avant leur rejet dans le milieu naturel, soit des eaux naturelles en vue de leur utilisation. En France, plus de 15 millions de m³ d'eau sont ainsi traités chaque jour dans 18 000 stations d'assainissement. Nous nous proposons d'étudier trois techniques mises en œuvre dans la purification des eaux troubles ou salées : la décantation, la floculation et le dessalement par osmose inverse. Chacune de ces études constitue une partie et peut être traitée de façon indépendante, à l'exception de la question (41) en lien avec la partie (I).
- 15

Notations et données.

Constante de Boltzmann :	k_B	=	$1,38 \times 10^{-23} \text{ J} \cdot \text{K}^{-1}$
Constante des gaz parfaits :	R	=	$8,31 \text{ J} \cdot \text{K}^{-1} \cdot \text{mol}^{-1}$
Température :	T		
Température ambiante :	T_a	=	300 K
Pression :	p		
Pression atmosphérique :	p_a		
Accélération de la pesanteur :	g	=	$9,81 \text{ m} \cdot \text{s}^{-2}$
Masse volumique de l'eau :	ρ	=	$1,00 \times 10^3 \text{ kg} \cdot \text{m}^{-3}$
Viscosité dynamique de l'eau :	η	=	$1,00 \times 10^{-3} \text{ Pa} \cdot \text{s}$
Masse molaire du sodium :	M_{Na}	=	$23,0 \text{ g} \cdot \text{mol}^{-1}$
Masse molaire du chlore :	M_{Cl}	=	$35,5 \text{ g} \cdot \text{mol}^{-1}$

I Bassin de décantation.

- La méthode la plus élémentaire pour épurer de l'eau chargée de particules en suspension consiste à les laisser sédimenter, puis à éliminer la boue déposée en fond de bassin.
- 20

I.A Entrée du canal.

À l'entrée de la station d'épuration, l'eau trouble est stockée dans un grand réservoir de longueur ℓ (selon Ox), de largeur $W = 5,0 \text{ m}$ (selon Oy) et de hauteur d'eau $H = 0,40 \text{ m}$ (selon Oz) (figure (1)).

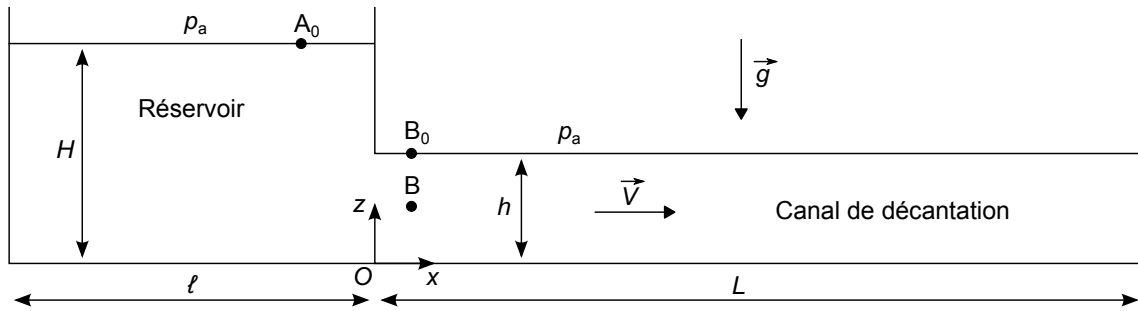


FIGURE 1 – Dispositif d'épuration : réservoir et canal de décantation.

Cette hauteur d'eau est fixée par un trop-plein. Le réservoir communique avec un canal de décantation
 25 (à surface libre) de largeur W , de longueur L et de hauteur d'eau $h = 0,20$ m. Nous notons $\vec{V} = V \vec{e}_x$
 (supposée uniforme) la vitesse de l'écoulement dans ce canal. Le référentiel d'étude est celui de la
 station et est noté $\mathcal{R} = (O, x, y, z)$, où $\vec{e}_z = -\vec{g}/g$.

1. Nous considérons un point A_0 de la surface libre du réservoir, un point B_0 de la surface libre
 du canal et un point B situé dans l'eau, à l'aplomb de B_0 (figure (1)). Relier les pressions p_a et
 30 p_B en supposant que la répartition verticale de pression dans le canal est hydrostatique. Écrire
 ensuite la relation de Bernoulli entre les points A_0 et B .
2. Exprimer puis calculer la vitesse V de l'écoulement dans le canal de sortie.
3. Calculer le nombre de Reynolds associé à l'écoulement dans le canal. Les conditions d'application
 de la relation de Bernoulli sont-elles vérifiées ?
- 35 4. Exprimer puis calculer le débit (volumique) q_v de l'écoulement dans le canal.

I.B Canal de décantation.

I.B.a Sédimentation.

À la sortie du réservoir (entrée du canal), la concentration en particules solides (argile) dans l'eau
 est supposée uniforme. Ces particules, de masse volumique $\rho_s = 2,5 \times 10^3 \text{ kg} \cdot \text{m}^{-3}$, sont assimilées à
 40 des sphères de rayon $a = 10 \mu\text{m}$. Elles possèdent, pour composante horizontale de vitesse, la vitesse
 $\vec{V} = V \vec{e}_x$ de l'écoulement qui les entraîne. Elles sont également animées d'une vitesse verticale de
 sédimentation notée $\vec{U} = -U \vec{e}_z$. Nous conduirons l'étude de la décantation dans le repère $\mathcal{R}' =$
 (O', x', y, z) , en translation uniforme à la vitesse $V \vec{e}_x$ par rapport au référentiel \mathcal{R} .

5. Exprimer la force de Stokes \vec{F} exercée par l'eau sur une particule.
6. Appliquer le principe fondamental de la dynamique à une particule. Établir alors que l'équation
 différentielle dont la vitesse U est solution, prend la forme :

$$\tau_s \dot{U} + U = U_s, \tag{1}$$

45 où τ_s et U_s sont des constantes que l'on exprimera en fonction de a , ρ , ρ_s , g et η , et dont on
 donnera une interprétation.

7. Illustrer graphiquement l'évolution du rapport U/U_s avec t/τ_s .
8. Calculer la vitesse U_s . Paraît-il justifié de modéliser la force de frottement fluide par la force de
 Stokes ?
- 50 9. Justifier, en comparant deux grandeurs à définir, que le régime transitoire peut être négligé
 dans cette étude. Nous considérerons alors que les particules sédimentent toutes avec la vitesse
 constante U_s .

10. Représenter, dans le référentiel \mathcal{R} , la trajectoire d'une particule depuis son entrée dans le canal jusqu'à sa sortie. On choisira une particule située en $(x = 0, z = h)$, à l'entrée du canal. Indiquer les zones d'eau claire et d'eau trouble.
11. Exprimer puis calculer la longueur minimale L_m du canal qui permettrait d'obtenir de l'eau claire à sa sortie.
12. Que devient cette longueur pour des particules de rayon $a' = 100 \mu\text{m}$?
13. Commenter brièvement les performances (ou limites) de cette technique de purification.

60 I.B.b Limitation de la sédimentation par la diffusion.

En réalité, la turbulence de l'écoulement limite la sédimentation en agissant comme un processus de diffusion activé¹. Afin de caractériser cet effet, nous allons déterminer la concentration $C(x, z, t)$ de particules (nombre de particules par unité de volume) dans le canal en supposant qu'elles sont, en plus des effets déjà considérés, l'objet d'un processus de diffusion. Nous notons D_a le coefficient de diffusion correspondant. L'étude reste conduite dans le repère \mathcal{R}' . Nous négligerons la diffusion horizontale², ce qui reviendra, dans les calculs, à considérer que $C = C(z, t)$.

14. Exprimer la densité de flux diffusif de particules \vec{j}_d .
15. Exprimer le vecteur flux de densité de particules \vec{j}_s associé à la vitesse de sédimentation U_s (définie en (I.B.a)).
- 70 16. Établir l'équation algébrique liant les flux \vec{j}_d et \vec{j}_s , en régime stationnaire. En déduire l'équation différentielle vérifiée par la concentration C (dans ce régime).

Nous considérons que le coefficient de diffusion dépend de la vitesse de l'écoulement et de l'altitude de la particule selon la relation :

$$D_a = \beta \frac{z(h-z)}{h} V \quad , \text{ où } \beta \text{ est une constante sans dimension.} \quad (2)$$

La solution de l'équation différentielle établie à la question (16) prend alors la forme :

$$C(z) = C_0 \left[\frac{h-z}{h-z_0} \frac{z_0}{z} \right]^{\text{Ro}} \quad , \text{ où } z_0 \text{ est une altitude de référence.} \quad (3)$$

17. Exprimer le nombre sans dimension Ro, appelé nombre de Rouse. Préciser les deux effets antagonistes qu'il permet de comparer.
18. La figure (2) représente la fonction $C(z)/C_0$ pour $z_0 = 0,01 \text{ m}$ et six valeurs du nombre de Rouse. Indiquer, en le justifiant, la valeur du nombre Ro la plus favorable. Commenter ce résultat d'un point de vue pratique.
- 75 19. On remarque que $\lim_{z \rightarrow 0} C(z)/C_0 = +\infty$. Que suggère ce résultat ?

II Flocculation.

La sédimentation est d'autant plus rapide que les particules sont grosses. On peut alors augmenter l'efficacité de la décantation en favorisant l'agglomération des particules entre elles. Pour cela, on ajoute à l'eau un additif chimique flocculant qui inhibe les interactions répulsives entre particules et favorise ainsi leur agrégation en "flocs".

1. Ce processus de diffusion domine celui induit par l'agitation thermique.

2. Le courant de diffusion horizontal est dominé par le courant de convection dû à l'entraînement des particules par l'écoulement.

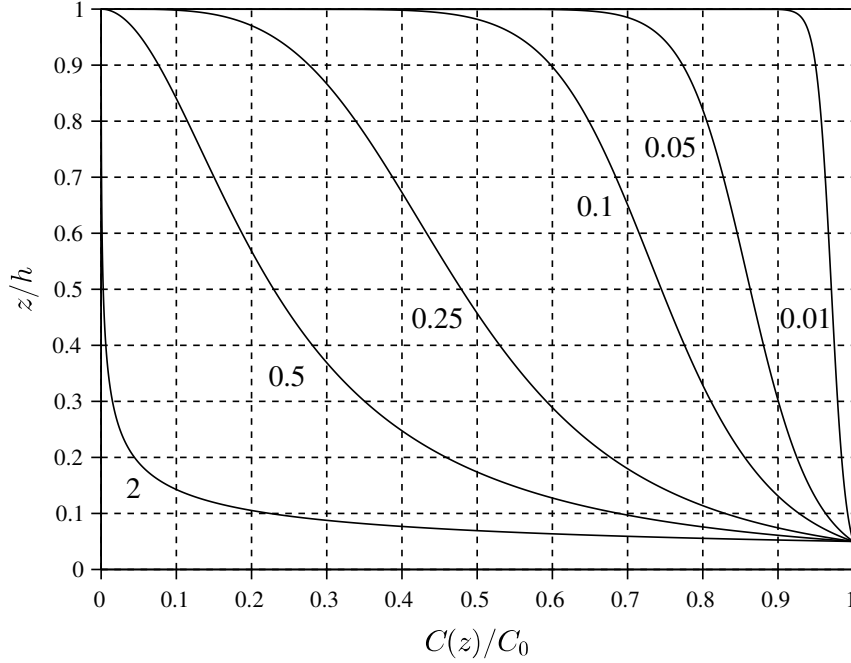


FIGURE 2 – Profil de concentration pour six valeurs du nombre de Rouse ($z_0 = 0,01$ m).

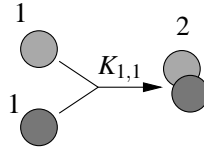


FIGURE 3 – Flocculation de deux particules individuelles : $(1) + (1) \rightarrow (2)$.

II.A Flocculation brownienne de particules simples.

L'eau contient initialement N_0 particules en suspension, par unité de volume (concentration). Ces
85 particules sont supposées sphériques, de rayon $a = 10 \mu\text{m}$. Nous dirons qu'un agrégat composé de
 k particules est un *floc*, ou *agrégat*, de taille (k). Dans un premier temps, nous considérons que
seules interviennent des collisions entre deux particules individuelles. Dès qu'elles entrent en contact,
nous supposons qu'elles adhèrent instantanément et irréversiblement pour former un floc de taille
(2) (figure(3)). À l'instant t , le nombre de particules de taille (1), par unité de volume, est noté
90 $N_1(t)$, celui d'agrégats (de taille (2)) est noté $N_2(t)$. Pour les applications numériques nous adopterons
 $N_0 = 3,0 \times 10^{12} \text{ m}^{-3}$ et $T = T_a$.

Considérons une particule i , supposée immobile et centrée à l'origine O (figure(4)). Étudions la
diffusion de ses voisines vers cette particule cible i . À une distance r de la cible i et à l'instant t ,
le nombre de particules par unité de volume est noté $n_1(r, t)$. En symétrie sphérique, la loi de Fick
exprimant la densité de flux de matière, s'écrit :

$$\vec{\varphi}(r, t) = -D \frac{\partial n_1}{\partial r} \vec{e}_r, \text{ où } D \text{ représente le coefficient de diffusion, supposé uniforme.} \quad (4)$$

20. Exprimer le flux ϕ de particules traversant, dans le sens de r croissant, la sphère de centre O et de rayon r , par unité de temps.

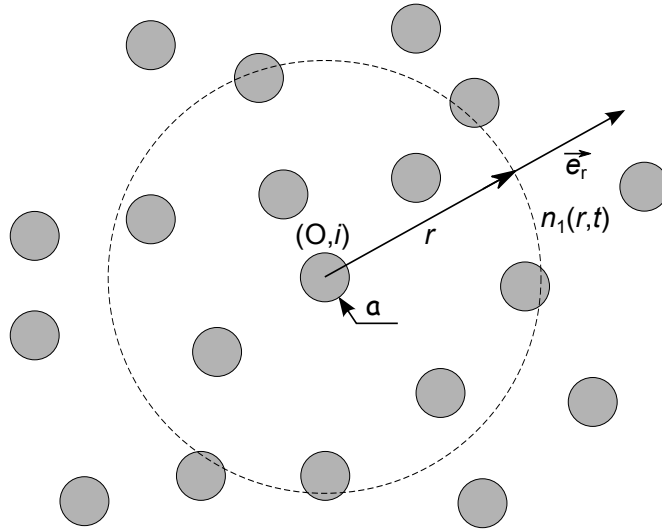


FIGURE 4 – Diffusion particulière vers une particule cible i située en O .

- 21.** Pendant l'intervalle de temps dt , la concentration de particules dans la coquille sphérique de rayon r et d'épaisseur dr varie de dn_1 . Exprimer dn_1 à partir d'un bilan établi sur le flux ϕ . En déduire que l'équation de diffusion s'écrit :

$$\frac{\partial n_1}{\partial t} = \frac{D}{r^2} \frac{\partial}{\partial r} \left(r^2 \frac{\partial n_1}{\partial r} \right) \quad (5)$$

- 22.** Justifier le choix des conditions aux limites :

$$(\forall t) \quad \begin{cases} n_1(2a, t) = 0 \\ n_1(r, t) \xrightarrow{r \rightarrow \infty} N_1(t) \end{cases} \quad (6)$$

95

- 23.** Nous supposons, dès à présent, que le régime transitoire peut être négligé (*a priori*). Cela revient à annuler le terme de gauche de l'équation différentielle (5). Déterminer le profil de concentration $n_1(r, t)$ dans ce régime quasi-stationnaire.

- 24.** Représenter graphiquement le rapport $n_1(r, t)/N_1(t)$.

- 100 **25.** Exprimer le flux ϕ^* de particules collectées par la particule i (nombre par unité de temps).

En réalité, la particule i n'étant pas immobile mais, elle aussi, diffusante, le coefficient de diffusion brownienne relatif s'écrit :

$$D = \frac{k_B T}{3\pi\eta a} \quad (7)$$

- 26.** Exprimer ϕ^* (en fonction de $k_B T$, η , et N_1) puis la grandeur $A_{1,1}$ représentant le nombre de collisions entre particules, par unité de temps et de volume (en moyenne, sur l'ensemble du volume). On l'écrira sous la forme $A_{1,1} = K_{1,1} \times N_1^2$.

- 105 **27.** En déduire l'équation différentielle décrivant l'évolution de la concentration $N_1(t)$ de particules individuelles.

- 28.** Déterminer la solution $N_1(t)$ de cette équation différentielle.

- 29.** Esquisser l'allure graphique de l'évolution du rapport $N_1(t)/N_0$, en fonction de $K_{1,1}N_0t$.

- 30.** Exprimer le temps caractéristique de floculation τ_f défini par $N_1(\tau_f) = N_0/2$, en fonction de $K_{1,1}$ et N_0 , puis de $k_B T$, η et N_0 .

- 110 **31.** Calculer τ_f .

- 32.** À partir de l'équation de diffusion (5), et en raisonnant sur des grandeurs caractéristiques, former un temps caractéristique τ_d , représentatif de la durée du régime transitoire, pour la diffusion.

- 33.** Exprimer le rapport $\kappa = \tau_d/\tau_f$ en fonction de a et N_0 . Calculer κ et commenter ce résultat.

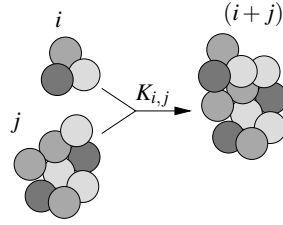


FIGURE 5 – Flocculation de deux agrégats : $(i) + (j) \rightarrow (i + j)$.

II.B Généralisation.

Nous considérons à présent toutes les collisions binaires possibles. La collision, toujours supposée irréversiblement agrégative, d'un floc (ou agrégat) de taille (i) et d'un autre de taille (j) fait apparaître un floc de taille $(i + j)$, comme l'illustre la figure (5). Dans ces conditions, le nombre N_j d'agrégats de taille (j) , par unité de volume, varie selon l'équation cinétique de Smoluchowski (1916) :

$$\frac{dN_j}{dt} = \varepsilon_j \frac{1}{2} \sum_{i=1}^{j-1} K_{j-i,i} N_{j-i} N_i - \sum_{i=1}^{\infty} K_{i,j} N_i N_j, \text{ avec } \varepsilon_j = \begin{cases} 0 & \text{pour } j = 1 \\ 1 & \text{pour } j \geq 2 \end{cases} \quad (8)$$

115 où $K_{p,q} N_p N_q$ représente le nombre de collisions entre un agrégat de taille (p) et un agrégat de taille (q) , par unité de temps et de volume (il s'agit d'une généralisation du terme $A_{1,1}$ introduit en question (26)).

34. Préciser la dimension des facteurs $K_{p,q}$ que l'on appellera "taux de collision".

35. Interpréter chacun des deux termes formant le membre de droite de l'équation (8).

Nous considérons que le taux de collision ne dépend pas de la taille des particules, comme c'était le cas pour la flocculation brownienne (question (26)), soit :

$$\forall (i, j), \quad K_{i,j} = K_{1,1} = K \quad (9)$$

Nous notons N_a le nombre total d'agrégats par unité de volume, toutes tailles confondues.

36. Établir que le nombre total dN_c de collisions se produisant pendant l'intervalle de temps dt , par unité de volume, s'exprime :

$$dN_c = \frac{K}{2} N_a^2 dt \quad (10)$$

120 **37.** En déduire l'équation différentielle vérifiée par N_a .

38. Établir que la solution de cette équation différentielle s'écrit :

$$N_a(t) = \frac{N_0}{1 + t/\tau_a}, \quad (11)$$

où τ_a est un temps caractéristique à exprimer en fonction de K et N_0 , puis à calculer.

39. Nous notons V_a le volume moyen des flocs et définissons par $R_a = \left(\frac{3V_a}{4\pi}\right)^{1/3}$ leur rayon équivalent moyen, au temps t . Exprimer $R_a(t)$.

40. Calculer la valeur du temps t_{2a} pour lequel la taille moyenne des flocs a doublé.

125 **41.** Préciser l'avantage de réaliser une étape de flocculation avant de laisser l'eau trouble s'écouler dans le canal de décantation.

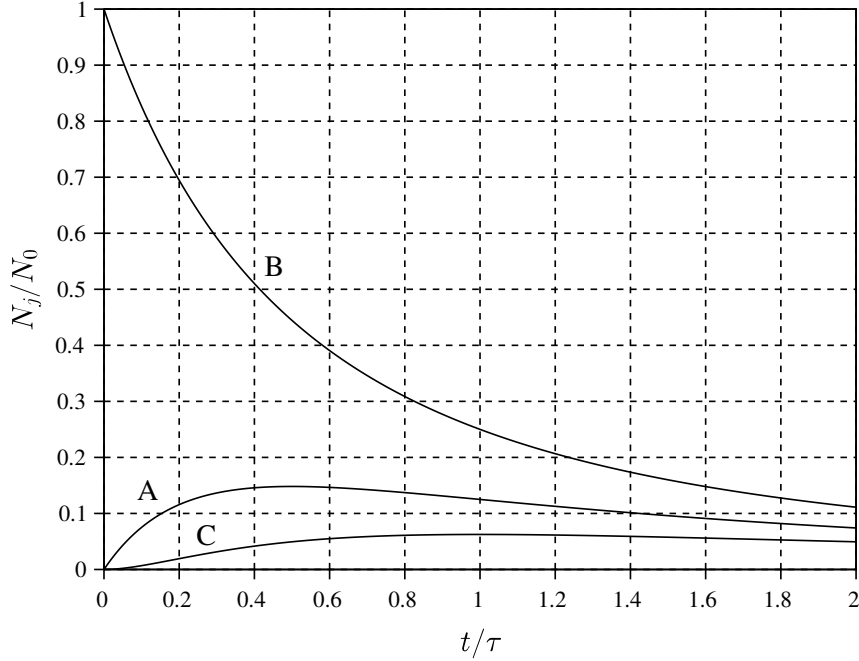


FIGURE 6 – Évolutions de N_1/N_0 , N_2/N_0 et N_3/N_0 en fonction de t/τ .

42. En utilisant l'équation (8) et le résultat obtenu à la question (38), établir que le nombre de particules (par unité de volume) non agglomérées varie selon l'équation :

$$N_1(t) = \frac{N_0}{(1 + t/\tau)^2}, \quad (12)$$

où τ une constante de temps à déterminer.

43. Commenter la comparaison de cette dépendance temporelle avec celle trouvée à la question (28).
 44. La figure (6) représente les évolutions de N_1/N_0 , N_2/N_0 et N_3/N_0 en fonction de t/τ . Les faire correspondre, en le justifiant, aux tracés A, B, C.

II.C Flocculation dans un mélangeur.

Pour accélérer le processus de flocculation il faut augmenter la fréquence des collisions entre les particules en suspension. Pour cela, l'eau est brassée par les pales rotatives d'un mélangeur qui se trouve ainsi soumise à des gradients de vitesse.

- 135 Pour comprendre ce principe d'agrégation activée, étudions d'abord un système en deux dimensions où les particules sont des disques de rayon a et de concentration surfacique (nombre par unité de surface) N'_1 . Elles sont placées dans un écoulement laminaire stationnaire décrit par le champ de vitesse $\vec{v}(x, y, z) = u(z)\vec{e}_x$. Nous notons $\dot{\gamma} = du/dz$ le taux de cisaillement (ou gradient de vitesse), que nous supposons uniforme. Nous considérons que chaque particule prend la vitesse correspondant
 140 à la ligne de courant qui passerait par son centre.

45. Sélectionnons deux particules situées, à l'instant t , en (x, z) et (x', z') (figure (7)). Préciser à quelle(s) condition(s) ces particules entreraient en collision dans l'intervalle de temps $[t, t + dt]$. Pour simplifier cette étude, nous considérerons que tous les chocs se produisent pour l'égalité des abscisses.

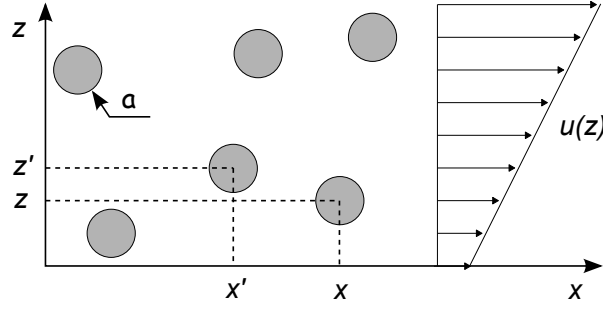


FIGURE 7 – Particules entraînées par un écoulement de cisaillement plan.

46. Dans ce cas, déduire que, pendant un intervalle de temps dt et en moyenne sur toute la surface, une particule sera heurtée par le nombre dN_H de ses voisines, tel que :

$$dN_H = |\dot{\gamma}| (2a)^2 N_1' dt \quad (13)$$

Dans le mélangeur réel tridimensionnel, sur la base du résultat (13), nous admettons que la concentration N_a de floes (toutes tailles confondues) varie selon l'équation différentielle :

$$\frac{dN_a}{dt} = -\Gamma R_a^3 N_a^2, \quad (14)$$

où R_a représente la taille moyenne des floes (définie à la question (39)) et Γ la moyenne (en espace et en temps) du module du taux de cisaillement.

- 145 47. On note κ_v la fraction volumique en particules solides dans l'eau. Exprimer κ_v en fonction de N_0 et a , puis de N_a et R_a .
48. En faisant intervenir κ_v dans l'équation (14), établir l'équation différentielle dont N_a est solution. On définira un temps caractéristique τ_m .
49. Déterminer la solution $N_a(t)$ de cette équation différentielle.
- 150 50. Préciser l'intérêt de l'utilisation d'un mélangeur par rapport à la floculation brownienne étudiée précédemment.
51. La puissance développée par le mélangeur peut s'exprimer, *a priori*, sous la forme :

$$P = k \times \rho^\alpha \times \Omega^\beta \times B^\gamma, \quad (15)$$

où k est une constante sans dimension, B la longueur caractéristique des pales du mélangeur et Ω leur vitesse angulaire. Par analyse dimensionnelle, déterminer les exposants α , β et γ .

- 155 52. Toujours à partir d'une analyse dimensionnelle, exprimer Γ dans le mélangeur comme une fonction de la puissance P fournie par celui-ci, de la viscosité dynamique η de l'eau et du volume V_M du mélangeur. On introduira encore une constante sans dimension k' .
53. Le moteur du mélangeur développe une puissance volumique $\mathcal{P} = 3 \text{ W} \cdot \text{m}^{-3}$. En prenant $k' = 1$, calculer le paramètre Γ puis le temps caractéristique τ_m . Commenter ce dernier résultat. On adoptera la valeur de N_0 donnée en introduction du paragraphe (II.A).
- 160 54. Hormis la consommation énergétique, quel peut être l'inconvénient d'augmenter Γ ?

III Filtration par osmose inverse.

165 Pour purifier une eau de source trop minéralisée, traiter une eau saumâtre ou dessaler de l'eau de mer afin de la rendre potable, on utilise fréquemment la technique de l'osmose inverse. Elle peut s'avérer plus économique en énergie que les techniques classiques par filtration ou distillation. Avant cette étape, l'eau doit toutefois être débarrassée des particules et micro-organismes en suspension afin de préserver la membrane permettant l'osmose.

Nous notons respectivement n_i , v_i , x_i et C_i un nombre de moles, un volume molaire, une fraction molaire et une concentration (en $\text{mol} \cdot \text{m}^{-3}$) se rapportant à une espèce chimique i .

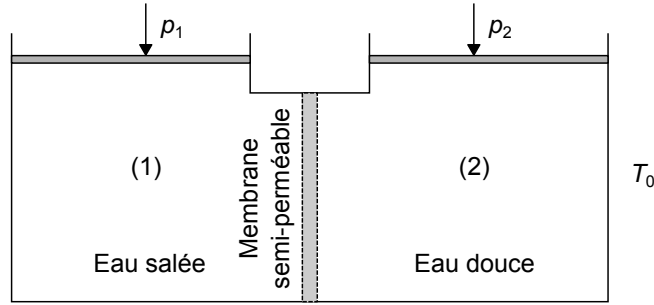


FIGURE 8 – Structure d’un osmoseur.

III.A Potentiel chimique.

- 170 **55.** Nous considérons un système thermodynamique \mathcal{S} en interaction mécanique et thermique avec un système \mathcal{S}^0 dont la pression p_0 et la température T_0 peuvent être considérées comme fixées. Ces deux systèmes sont, par ailleurs, globalement isolés. Dans le cas d’une évolution isotherme et isobare du système \mathcal{S} , justifier que son enthalpie libre G coïncide alors avec son potentiel thermodynamique.
- 175 **56.** Nous considérons une solution liquide à N constituants et notons μ_i le potentiel chimique de l’espèce i ($i \in \{1, \dots, N\}$). Exprimer la différentielle dG associée aux variations dp , dT , dn_i .
- 57.** Établir alors que le volume molaire du constituant i s’exprime par la dérivée partielle :

$$\left. \frac{\partial \mu_i}{\partial p} \right|_{T, n_j} = v_i \quad (16)$$

- 58.** Dans le cas d’un mélange idéal, on admettra que le potentiel chimique μ_i de l’espèce i se déduit de son potentiel chimique μ_i^* lorsqu’elle est seule (pure), par la relation :

$$\mu_i(T, p, x_i) = \mu_i^*(T, p) + RT \ln x_i \quad (17)$$

En considérant que le volume molaire varie peu avec la pression, établir alors que le potentiel chimique s’écrit :

$$\mu_i(T, p, x_i) = \mu_i^0(T, p^0) + v_i(p - p^0) + RT \ln x_i, \quad (18)$$

où p^0 une pression de référence et $\mu_i^0(T, p^0)$ le potentiel chimique de l’espèce i , pure.

III.B Principe de l’osmoseur.

Étudions à présent le dispositif de dessalement par osmose inverse. Deux compartiments (1) et (2) communiquent à travers une membrane semi-perméable ne laissant passer que les molécules d’eau (figure (8)). Le compartiment (1) contient de l’eau salée (le “condensat”) et est maintenu à pression p_1 . Les fractions molaires en eau et en ions Na^+ et Cl^- sont notées, respectivement, x_e , x_{Na} et x_{Cl} . Le compartiment (2) contient de l’eau pure (le “perméat”) et est maintenu à pression p_2 . L’ensemble du dispositif est à l’équilibre avec un thermostat de température T_0 . Nous notons G l’enthalpie libre de l’ensemble du système. Nous négligerons toute variation de pression d’origine hydrostatique.

- 59.** Exprimer le potentiel chimique de l’eau dans chacun des compartiments, $\mu_e^{(1)}$ et $\mu_e^{(2)}$.
- 60.** Les molécules d’eau étant susceptibles de traverser la membrane, notons $dn_e^{(k)}$ la variation du nombre de moles d’eau dans le compartiment (k), pendant l’intervalle de temps dt . Exprimer la variation élémentaire d’enthalpie libre dG associée à ce transfert.

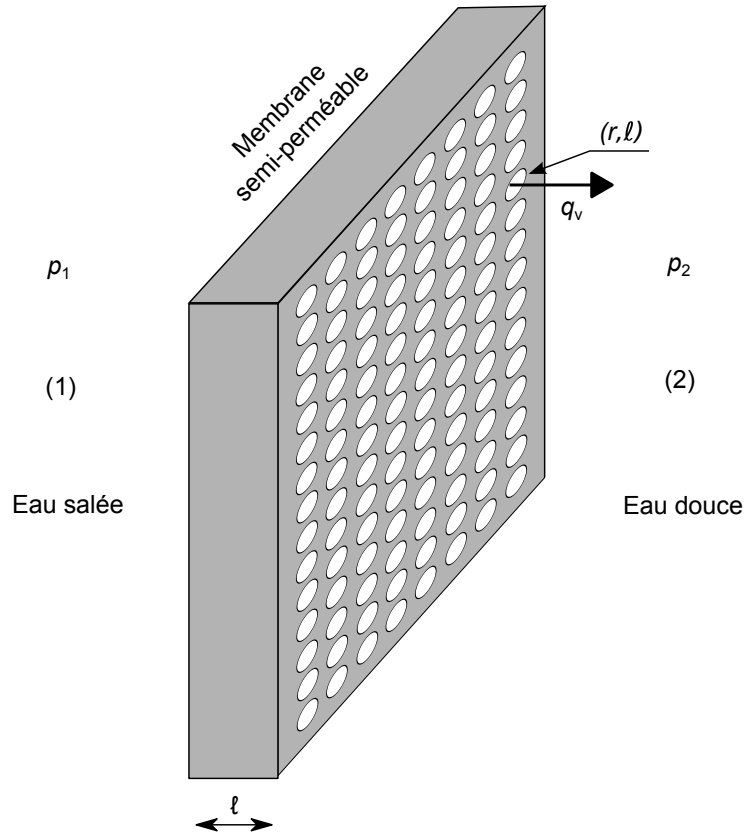


FIGURE 9 – Modélisation hydrodynamique de la membrane.

- 190 **61.** Indiquer à quelle condition, portant sur la différence de pression $\Delta p = p_1 - p_2$, l'eau transite du compartiment (1) au compartiment (2) (osmose inverse).

On appelle pression osmotique, que l'on note Π , l'écart de pression Δp dans les conditions d'équilibre thermodynamique.

- 62.** Exprimer Π en faisant apparaître x_{Na} et x_{Cl} . En supposant que $(x_{\text{Na}} + x_{\text{Cl}}) \ll 1$, établir alors la relation de Van't Hoff (1886) :

$$\Pi = RT (C_{\text{Na}} + C_{\text{Cl}}) \quad (19)$$

- 63.** Calculer la surpression minimale limite à exercer sur une eau de mer contenant $35 \text{ g} \cdot \text{L}^{-1}$ de NaCl pour réaliser l'osmose inverse à la température ambiante (300 K).

- 195 **64.** Dans une usine de dessalement, seule une fraction de 50% de l'eau salée entrante est convertie en eau douce. Comment expliquer cette limitation ?

III.C Écoulement à travers la membrane.

D'un point de vue hydrodynamique, nous modélisons la membrane par un ensemble de tubes parallèles, cylindriques, de rayon r et de longueur ℓ (figure (9)). Nous notons S l'aire de la membrane et n_S le nombre de tubes par unité de surface.

- 200 **65.** En considérant que les tubes sont traversés par un écoulement de Poiseuille, rappeler la relation reliant le débit q_v (volumique, et dans le sens (1) \rightarrow (2)) dans un tube à la différence de pression entre ses extrémités. On admettra que cette différence de pression doit ici être remplacée par $(\Delta p - \Pi)$. On posera $b = \pi r^4 / (8\eta\ell)$.

66. Exprimer le débit volumique d'eau Q_{us} traversant la membrane, par unité de surface.
- 205 67. Calculer Q_{us} pour $r = 10 \text{ nm}$, $\ell = 50 \text{ }\mu\text{m}$, $n_S = 1,6 \times 10^{15} \text{ m}^{-2}$ et $\Delta p = 70 \times 10^5 \text{ Pa}$.
68. Lorsque l'eau s'écoule d'un compartiment à l'autre, la fraction molaire ionique $x = x_{\text{Na}} + x_{\text{Cl}}$ varie, et avec elle la pression osmotique. Établir une équation différentielle dont la variable $x(t)$ est solution.
- 210 69. Nous supposons l'écart Δp fixé et tel que $\Delta p > \Pi(x(t=0))$. En s'appuyant sur cette équation différentielle, esquisser qualitativement l'allure graphique de l'évolution $x = x(t)$. On précisera notamment sa limite $x_\infty = x(t \rightarrow \infty)$. Commenter brièvement cette évolution.
70. Exprimer le travail mécanique W_m nécessaire au traitement d'un volume V_e d'eau salée, sous la différence de pression Δp constante. Que devient cette énergie que le système reçoit de façon continue ?
- 215 71. Une installation de désalinisation fonctionne de façon continue avec une pompe imposant une différence de pression $\Delta p = 70 \times 10^5 \text{ Pa}$. Le rendement global de cette pompe est $\eta_p = 80\%$. Calculer le coût énergétique w du dessalement, exprimé en $\text{kWh} \cdot \text{m}^{-3}$.

* *
*